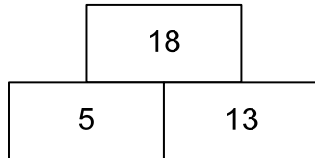


## Zahlenmauer

Zahlenmauern sind aus Steinen gebaut.

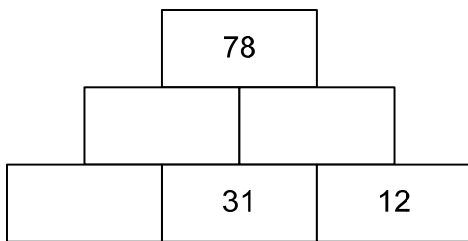
Dabei steht in jedem Stein die **Summe** der beiden darunter liegenden Steine.

Beispiel:



### Teilaufgabe 1

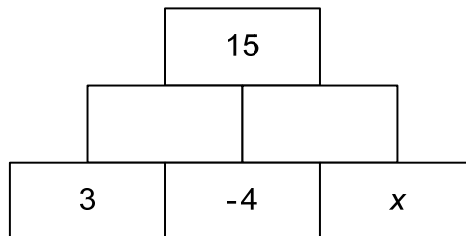
Ergänze die drei fehlenden Zahlen in der Zahlenmauer.



### Teilaufgabe 2

Gib an, welche Zahl man hier für  $x$  einsetzen muss.

$x =$  \_\_\_\_\_



### Teilaufgabe 3

Gib an, welche Zahl man hier für  $x$  einsetzen muss.

$x =$  \_\_\_\_\_

