





Verkehrszeichen

Teilaufgabe 1

Ist das Bild des Verkehrszeichens achsensymmetrisch?

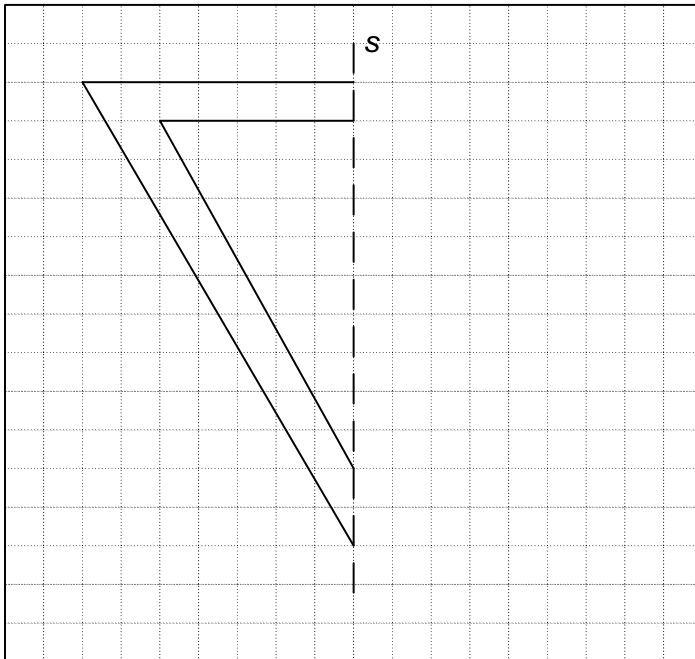
Kreuze jeweils an.

	ja	nein
	<input type="checkbox"/>	<input type="checkbox"/>
	<input type="checkbox"/>	<input type="checkbox"/>
	<input type="checkbox"/>	<input type="checkbox"/>
	<input type="checkbox"/>	<input type="checkbox"/>
	<input type="checkbox"/>	<input type="checkbox"/>

Teilaufgabe 2

Spiegele die Figur an der Spiegelachse s.

Zeichne mit Geodreieck oder Lineal.



Teilaufgabe 3

Zeichne alle Spiegelachsen in diese Figur ein.



Teilaufgabe 4

Beim Spiegeln dieses Verkehrszeichens ist ein Fehler unterlaufen.

Kreise den Fehler ein.

