

VERA 6

Mathematik 2018

Gymnasium

Name

Klasse

GY

www.iqsh.de

ANWEISUNGEN

In diesem Aufgabenheft findest du eine Reihe von Aufgaben und Fragen zur Mathematik. Einige Aufgaben sind kurz, andere etwas länger, ein paar Aufgaben werden dir schwerer und andere leichter fallen. Im Aufgabenheft findest du immer wieder leichte und schwere Aufgaben abwechselnd vor. Wenn du dir bei einer Aufgabe nicht sicher bist, halte dich nicht lange damit auf und gib die Antwort, die du für die beste hältst.

Bitte bearbeite die verschiedenen Aufgabenarten so, wie es in den folgenden Beispielen gezeigt wird.

BEISPIELE FÜR AUFGABENTYPEN

Bei einigen Aufgaben sollst du immer nur ein Kreuz setzen.

Wenn du deine Antwort auf eine Frage ändern möchtest, male das Kästchen mit deiner ersten Antwort vollständig aus und mache ein Kreuz in das richtige Kästchen, so wie es im Beispiel gezeigt wird.

Beispiel 1

Wie viele Tomaten hat man, wenn man vier Schachteln mit jeweils acht Tomaten kauft?

Kreuze an.

12 Tomaten 24 Tomaten 28 Tomaten 32 Tomaten

Bei manchen Aufgaben sollst du mehrere Antworten geben, indem du in jeder Zeile ein Kästchen ankreuzt. Du kannst z. B. entscheiden zwischen wahr/falsch oder auch ja/nein.

Beispiel 2

Sind folgende Aussagen wahr oder falsch?

Kreuze jeweils an.

Jedes gleichschenklige Dreieck ...	wahr	falsch
... besitzt drei gleich lange Seiten.	<input type="checkbox"/>	<input checked="" type="checkbox"/>
... besitzt mindestens eine Symmetrieachse.	<input checked="" type="checkbox"/>	<input type="checkbox"/>
... hat immer einen rechten Winkel.	<input type="checkbox"/>	<input checked="" type="checkbox"/>
... hat mindestens zwei gleich große Winkel.	<input checked="" type="checkbox"/>	<input type="checkbox"/>

Bei einigen Aufgaben sollst du nur ein Ergebnis angeben.
Dafür hast du unter der Aufgabe eine Antwortlinie.

Beispiel 3

Maria hört in den Nachrichten, dass über 7 Milliarden Euro diskutiert wird.

Schreibe diese Zahl in Ziffern.

..... 7 000 000 000

Manchmal sollst du auch etwas erklären, begründen oder zeichnen.
Bei solchen Aufgaben findest du immer ein Rechenkästchenfeld unter der Aufgabe,
in das du schreiben oder zeichnen sollst.

Beispiel 4


Der Goldmedaillengewinner im 800-m-Lauf der Männer bei den
Olympischen Spielen 2000 hatte eine Zeit von 1 Minute und 45,08 Sekunden.

Gib seine Laufzeit in Sekunden an.

..... 105,08 Sekunden

Notiere deinen Rechenweg.

$$1 \text{ min } 45,08 \text{ s} = 60 \text{ s} + 45,08 \text{ s} = 105,08 \text{ s}$$

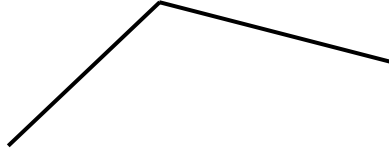


Stopp

Du darfst erst dann umblättern,
wenn du dazu aufgefordert wirst.


Aufgabe 7: Das Parallelogramm

In der Abbildung siehst du zwei Seiten eines Vierecks.
Vervollständige die Abbildung zu einem Parallelogramm.



Aufgabe 8: Gesunde Ernährung

Ein Kilogramm Äpfel kostet 3,80 €.
Berechne, wie viel 250 g dieser Äpfel kosten.



250 g dieser Äpfel kosten _____ €.

Aufgabe 9: Winkel

Die Geraden g und h sind parallel zueinander.
Der Winkel β ist doppelt so groß wie der Winkel α .

Gib die Größe des Winkels γ in Grad an.

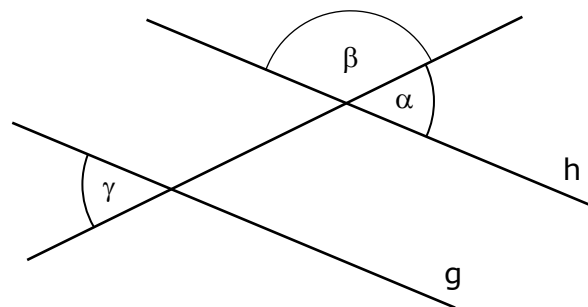
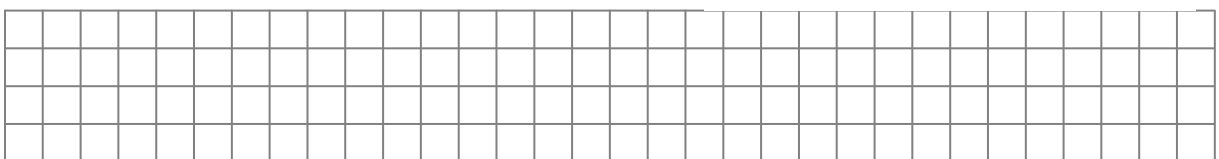


Abbildung nicht maßstäblich

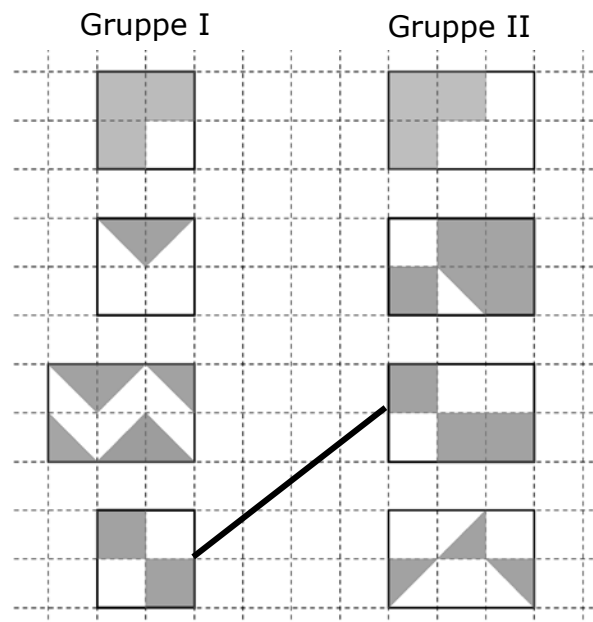


Die Größe des Winkels γ beträgt _____ °.

Aufgabe 19: Gleiche Anteile

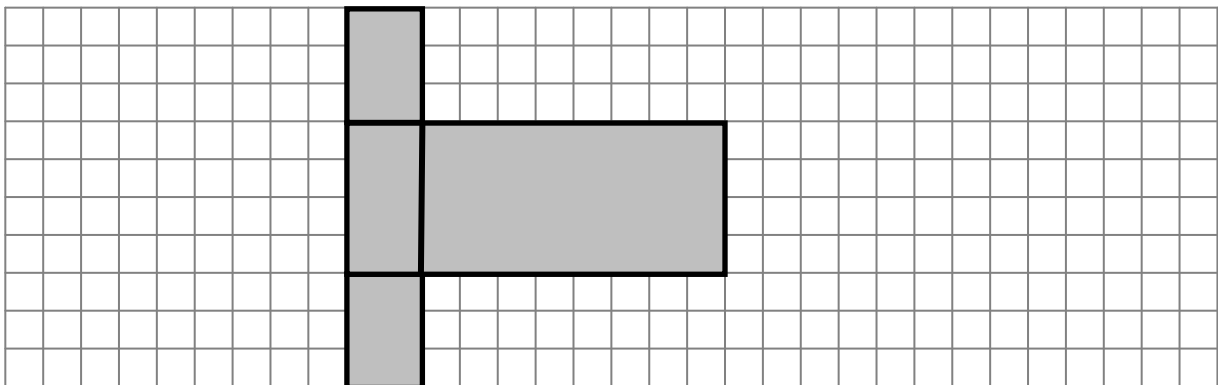
Verbinde jeweils eine Figur der Gruppe I mit genau einer Figur der Gruppe II so, dass in beiden Figuren der gleiche Anteil grau gefärbt ist.

Eine richtige Verbindung ist bereits eingezeichnet.



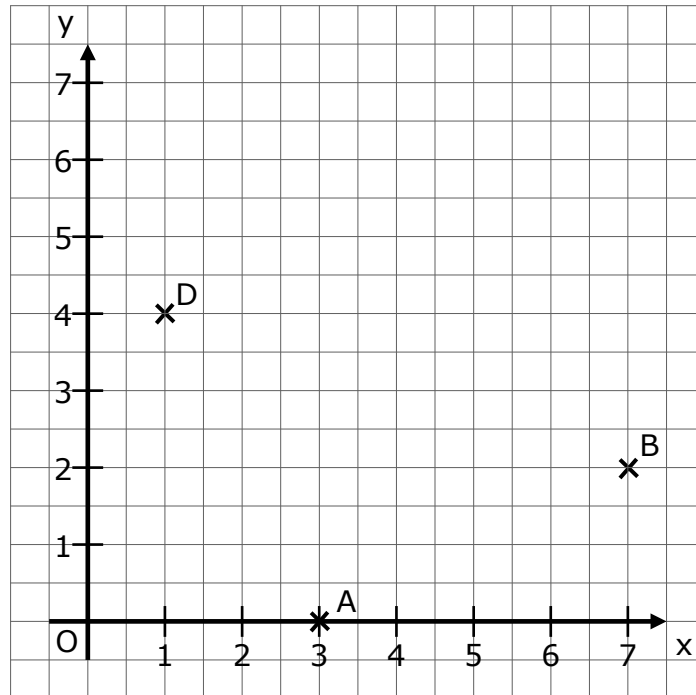
Aufgabe 20: Quadernetz

Die grau gefärbte Figur soll zu einem Quader gefaltet werden. Zeichne die zwei fehlenden Falllinien mit einem Lineal ein.



Aufgabe 23: Figur im Koordinatensystem

Die Punkte A (3 | 0), B (7 | 2) und D (1 | 4) sind im Koordinatensystem gegeben.



Trage in das Koordinatensystem einen Punkt C so ein, dass das Viereck ABCD ein Quadrat ist.

Impressum

VERA 6 Testheft

Herausgeber:
Institut für Qualitätsentwicklung an Schulen
Schleswig-Holstein (IQSH)
Dr. Thomas Riecke-Baulecke, Direktor
Schreberweg 5, 24119 Kronshagen
<http://iqsh.schleswig-holstein.de>

Kontakt:
Sachgebiet 42
Tel.: 0431 5403 187
E-Mail: vera@bildungsdienste.landsh.de

Aufgabenentwicklung:
Länderverbundprojekt Lernstand 6 / VERA 6 der Länder:
- Autonome Provinz Bozen / Südtirol
- Mecklenburg-Vorpommern
- Sachsen
- Schleswig-Holstein
- Thüringen
- Institut zur Qualitätsentwicklung im Bildungswesen (IQB)

Gestaltung Deckblatt:
Meike Voigt, Kiel

Druck:
Schmidt & Klaunig, Kiel

© IQSH Februar 2018

IQSH
Institut für Qualitätsentwicklung
an Schulen Schleswig-Holstein

Schreberweg 5
24119 Kronshagen
Tel.: 0431 5403-0
Fax: 0431 5403-200
info@iqsh.landsh.de
www.iqsh.de